





Metend rekenen

Oefeningen blok 4

- Noteer bij elke thermometer de juiste temperatuur.
- Vul de zin aan.

Nacht	Ochtend	Middag	Avond
			
-2 °C	3 °C	10 °C	5 °C

Het is het koudst tijdens de **nacht** _____.

Het is het warmst op de **middag** _____.

Wat is het verschil in temperatuur tussen:

de ochtend en de middag: **7 °C** _____

de middag en de avond: **5 °C** _____

de ochtend en de avond: **2 °C** _____

de nacht en de ochtend: **5 °C** _____

de nacht en de middag: **12 °C** _____

De volgende oefeningen verbeter je met de verbeter sleutel in de klas