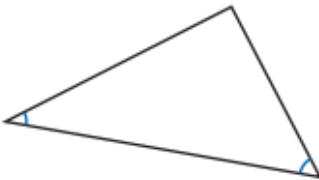
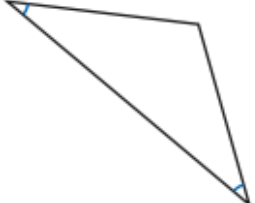
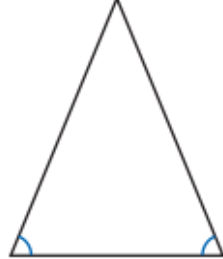


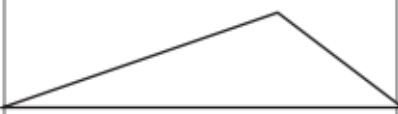
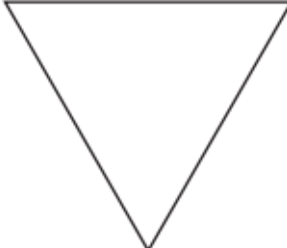

Meetkunde

Oefeningen blok 5

- Controleer de hoeken met een geodriehoek.
- Duid in elke driehoek twee scherpe hoeken aan.
- Omkring de juiste naam.

		
Scherphoekige driehoek Stomphoekige driehoek <input checked="" type="radio"/> Rechthoekige driehoek	Scherphoekige driehoek <input checked="" type="radio"/> Stomphoekige driehoek Rechthoekige driehoek	<input checked="" type="radio"/> Scherphoekige driehoek Stomphoekige driehoek Rechthoekige driehoek

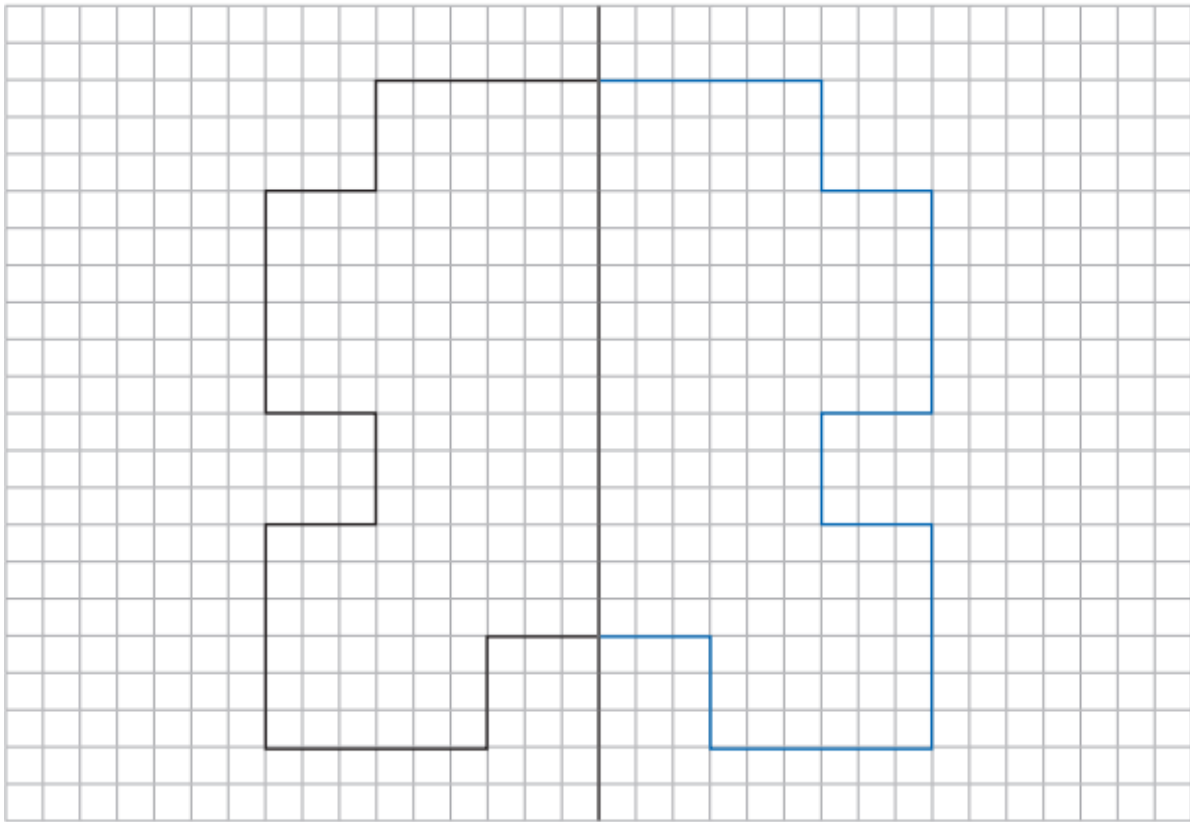
- Meet elke zijde.
- Benoem de driehoek volgens de zijden.
- Omkring de meest passende naam.

		
<input checked="" type="radio"/> Ongelijkbenige driehoek Gelijkbenige driehoek Gelijkzijdige driehoek	Ongelijkbenige driehoek Gelijkbenige driehoek <input checked="" type="radio"/> Gelijkzijdige driehoek	Ongelijkbenige driehoek <input checked="" type="radio"/> Gelijkbenige driehoek Gelijkzijdige driehoek

De getekende as is een symmetrieas van de figuur.

Teken de figuur.

Werk met lat en potlood.



Teken het spiegelbeeld van de gegeven figuur.

Werk met lat en potlood.

