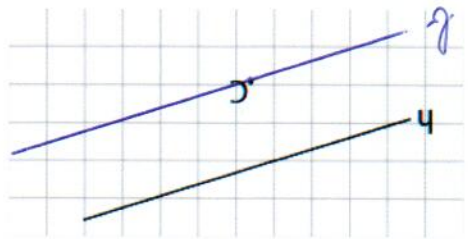


Meetkunde

Oefeningen blok 2





- Teken door het punt C de rechte b evenwijdig aan de rechte h.



- Teken de gevraagde figuur. *Jeur figuur kon er anders uitzien. Tel goed het aantal hoeken.*
- Werk met potlood en lat of geodriehoek.

<p>Een driehoek met drie verschillende zijden</p>	<p>Een zeshoek</p>
<p>Een vijfhoek</p>	<p>Een vierhoek</p>

- Benoem de figuren.
- Kruis de passende eigenschappen aan.

	<p>Dit is een</p> <p><i>vierkant</i></p> <input checked="" type="checkbox"/> 4 rechte hoeken <input checked="" type="checkbox"/> overstaande hoeken <input checked="" type="checkbox"/> zijn gelijk <input checked="" type="checkbox"/> 4 gelijke zijden <input checked="" type="checkbox"/> 2 paar gelijke zijden
	<p>Dit is een</p> <p><i>ruit</i></p> <input type="checkbox"/> 4 rechte hoeken <input checked="" type="checkbox"/> overstaande hoeken <input checked="" type="checkbox"/> zijn gelijk <input checked="" type="checkbox"/> 4 gelijke zijden <input checked="" type="checkbox"/> 2 paar gelijke zijden
	<p>Dit is een</p> <p><i>parallellogram</i></p> <input type="checkbox"/> 4 rechte hoeken <input checked="" type="checkbox"/> overstaande hoeken <input checked="" type="checkbox"/> zijn gelijk <input type="checkbox"/> 4 gelijke zijden <input checked="" type="checkbox"/> 2 paar gelijke zijden
	<p>Dit is een</p> <p><i>rechthoek</i></p> <input checked="" type="checkbox"/> 4 rechte hoeken <input checked="" type="checkbox"/> overstaande hoeken <input type="checkbox"/> zijn gelijk <input type="checkbox"/> 4 gelijke zijden <input checked="" type="checkbox"/> 2 paar gelijke zijden