


Logisch en probleemoplossend denken

Oefeningen blok 3: correctie

- Hoeveel ballen staan er ongeveer op de afbeelding?
- Vul de tabel aan.

	Wat moeten we schatten? aantal ballen _____
	Aantal ballen op één rij van links naar rechts: 8 _____
	Aantal rijen: 3 _____
	Bewerking: $8 \times 3 = 24$ _____



Antwoordzin: Er staan ongeveer 24 ballen op de foto. _____
 (verscheidene schattingen mogelijk; antwoorden tussen 20 en 30 kunnen goed gerekend worden)

- Wat betekent de schaal bij de tekening?
- Vul aan.

		
Schaal 1/50	Schaal 1 : 40	Schaal 1/36
1 cm _____ op de tekening is 50 cm _____ in werkelijkheid.	1 cm _____ op de tekening is 40 cm _____ in werkelijkheid.	1 cm _____ op de tekening is 36 cm _____ in werkelijkheid.

Op welke schaal is de afbeelding afgebeeld?

Omkring de juiste breukschaal.

 Deze kerstbal is in werkelijkheid 5 cm hoog.	$\frac{1}{4}$	 Dit pak is in werkelijkheid 30 cm hoog.	1 : 30
	$\frac{1}{5}$		1 : 2
	$\frac{1}{2}$		1 : 20
	$\frac{1}{3}$		1 : 15